






Weetvragen	lesnummer	oplossing
Waarmee meten we hoe koud het buiten is? <i>thermometer</i>	10	
Noem drie soorten neerslag. <i>sneeuw, regen, hagel</i>	10	
Noem twee gevaren van het weer in de herfst. <i>storm, overstroming</i>	10	
Juist of fout? Ik maak gebakken appeltjes met zachte appels. <i>fout</i>	10	
Op welke dag wordt de Heilige Nicolaas herdacht? <i>6 december</i>	11	
Welke lekkernij hoort bij Allerzielen? <i>pannenkoeken</i>	11	
Wat zijn gelede poten? <i>poten bestaan uit verschillende stukjes achter elkaar</i>	12	
Hoeveel poten heeft een spin? <i>8</i>	12	
Welke spin is dit? Hoe weet je dat? <i>1. trilspin : lange poten</i> <i>2. wolfsspin : behaarde poten</i> <i>3. kruisspin : kruis op rug</i> 	12	
Eitjes van de spin vinden we in de ...? Kies uit: herfst – zomer – <u>winter</u> .	12	
Noem drie plaatsen waar we spinnen kunnen vinden. <i>bos, kelder, zolder, ...</i>	12	
Wat is het verschil tussen een zwam en een paddenstoel? <i>zwam : boven en onder de grond</i> <i>paddenstoel : boven de grond</i>	13	
Een wirwar van draden onder de grond is een ... <i>zwamvlok</i>	13	
Welke zwam is dit? <i>1. eekhoortjesbrood</i> <i>2. stuifzwam</i> <i>3. stinkzwam</i> <i>4. wedechampion</i> <i>5. elfenbankje</i> 	13	
Noem drie plaatsen in het bos waar je zwammen kunt vinden. <i>grond, dood hout, levende bomen</i>	13	
Juist of fout? Het eekhoortjesbrood is een eetbare zwam. Wij lusten hem graag. <i>juist</i>	13	
Benoem de delen van het blad. <i>bladrand, nerven, bladsteel, bladmoes, bladschijf</i>	14	
Wat zijn nerven? <i>de vervoerskanalen</i>	14	
Wat is bladmoes? <i>vormt samen met de nerven de bladschijf</i>	14	
Het blad op de tekening heeft een ... bladrand. 	14	
Wat hoort niet thuis in het rijtje? bout – moer – <del>lepel</del> – hamer	15	
Wat hoort niet thuis in het rijtje? ringsleutel – schroevendraaier – inbussleutel – <del>pollepel</del>	15	
Wat hoort niet thuis in het rijtje? <del>koek</del> – hout – metaal – lijm	15	

Denkvragen	lesnummer	oplossing
Zet de zinnen in de juiste volgorde. <i>C-B-D-A</i> A Dit papje vormt het voedsel voor de spin. B Een gevangen insect wordt verdoofd en ingesponnen. C Een spin neemt trillingen van het web waar met de klauwtjes aan haar poten. D Door buisjes in de kaken komt speeksel in de prooi, die daardoor oplost tot een papje.	12	
Waarom noemen we spinnen meedogenloos? <i>eens gevangen in het web wordt de prooi opgegeten.</i>	12	
Vergelijk deze dieren. Noem twee verschillen. <i>mier : 6 poten - lichaam uit 3 delen</i> <i>spin : 8 poten - lichaam uit 2 delen</i>	12	
Een 'pen' hoort bij 'papier' en een 'vis' in het 'water'. Wat hoort bij een bout? <i>moer</i>	15	
Wat maak je vast met een ringsleutel? <i>bout en moer</i>	15	
Noem drie vruchten die je in de herfst in het bos vindt. <i>kastanje beukenootje eikel</i>		

Doevragen	lesnummer	oplossing
Kijk naar de wolken buiten. Teken het juiste pictogram.	10	
Beeld uit. Krachtige wind	10	
Beeld uit. Regen	10	
Hinkel naar de jaarlijn en duid het einde van de herfst aan.	11	
Teken een spinnenweb.	12	
Rangschik in de juiste volgorde. <i>eitjes - babyspinnen - jonge spinnen - jonge spinnen – eitjes – volwassen spinnen – babyspinnen. volw. spinnen</i>	12	
Teken een zwam.	13	
Orden de tekeningen. 	13	
Teken een blad van een boom. Vraag aan je groepsleden om de verschillende delen van een blad aan te duiden.	14	
Teken een blad met gezaagde/getande/gave rand.	14	